



UNIVERSIDADES PÚBLICAS DE LA COMUNIDAD DE MADRID

PRUEBA DE ACCESO A ESTUDIOS UNIVERSITARIOS (LOGSE)

Curso 2006-2007

MATERIA: GEOGRAFÍA

INSTRUCCIONES GENERALES Y VALORACIÓN

Dispone de dos opciones para contestar (A y B). **Debe escoger exclusivamente una de ellas.**

La puntuación total será en ambas opciones de **10 puntos**, correspondiendo a la primera parte **1,5 puntos**, a la segunda **4 puntos**, a la tercera **2,5 puntos** y **2 puntos** a la cuarta.

TIEMPO. **Duración de la prueba:** “1 hora y 30 minutos”.

OPCIÓN A

1ª Parte

Defina, en el cuadernillo adjunto, seis de los siguientes términos o conceptos geográficos, utilizando como máximo una cara del cuadernillo:

Berrocal, FEDER, Estuario, Ensanche, Frente Polar, Franquicia, Concentración parcelaria, Maquis.

Puntuación máxima: 1,5 puntos

2ª Parte

Tema: “*La estructura demográfica de la población española*”.

Desarrolle, de manera sintética, el tema propuesto (utilice, como máximo, ambas caras de un folio), atendiendo, al menos, a los siguientes puntos:

- Evolución histórica y situación actual.
- Factores que han incidido en el proceso de cambio.
- Consecuencias demográficas y socioeconómicas.
- El futuro de la población española.

Puntuación máxima: 4 puntos

3ª Parte

Comentario de la fotografía adjunta:

Comente el paisaje de la lámina adjunta, atendiendo, al menos, a:

- a) Unidades del paisaje.
- b) Cambios en los usos del suelo.
- c) Manifestaciones espaciales de las actividades económicas.

Puntuación máxima: 2,5 puntos

UNIVERSIDADES PÚBLICAS DE LA COMUNIDAD DE MADRID

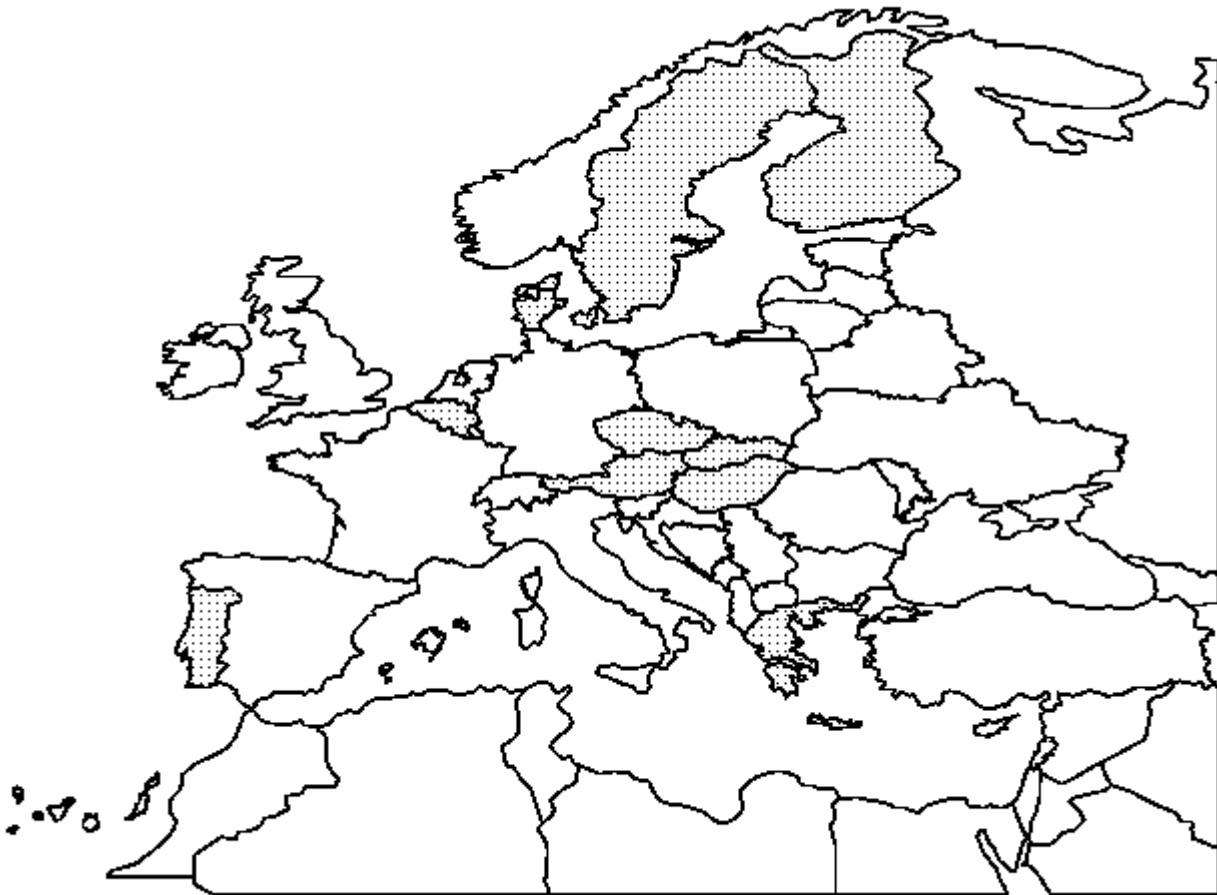
PRUEBA DE ACCESO A ESTUDIOS UNIVERSITARIOS (LOGSE)
Curso 2006-2007

MATERIA: GEOGRAFÍA

4ª Parte

A la vista del mapa adjunto, *“países de la Unión Europea cuya población está comprendida entre los cinco y los catorce millones de habitantes, en el 2004”*, indique el nombre de los países “tramados” y sus respectivas capitales; señale las razones que explican esta distribución y comente algunas consecuencias emanadas de este hecho.

Puntuación máxima: 2 puntos.



	UNIVERSIDADES PÚBLICAS DE LA COMUNIDAD DE MADRID PRUEBA DE ACCESO A ESTUDIOS UNIVERSITARIOS (LOGSE) Curso 2006-2007 MATERIA: GEOGRAFÍA	
--	---	--

INSTRUCCIONES GENERALES Y VALORACIÓN

Dispone de dos opciones para contestar (A y B). **Debe escoger exclusivamente una de ellas.**

La puntuación total será en ambas opciones de **10 puntos**, correspondiendo a la primera parte **1,5 puntos** a la segunda **4 puntos**, a la tercera **2,5 puntos** y **2 puntos** a la cuarta.

TIEMPO. **Duración de la prueba:** “1 hora y 30 minutos”.

OPCIÓN B

1ª Parte

Defina, en el cuadernillo adjunto, **seis** de los siguientes términos o conceptos geográficos, utilizando como máximo una cara del cuadernillo:

Coordenadas geográficas, BENELUX, Movimientos pendulares, Censo demográfico, Isobaras, Comercio minorista, Deslocalización industrial, Latifundio.

Puntuación máxima: 1,5 puntos.

2ª Parte

Tema: “***La orla montañosa de la Meseta Central***”.

Desarrolle, de manera sintética, el tema propuesto (utilice, como máximo, ambas caras de un folio), atendiendo, al menos, a los siguientes puntos:

- Características geomorfológicas, climáticas y biogeográficas.
- El Macizo Galaico y la Cordillera Cantábrica;
- El Sistema Ibérico.
- Sierra Morena.

Puntuación máxima: 4 puntos.

UNIVERSIDADES PÚBLICAS DE LA COMUNIDAD DE MADRID

PRUEBA DE ACCESO A ESTUDIOS UNIVERSITARIOS (LOGSE)
Curso 2006-2007

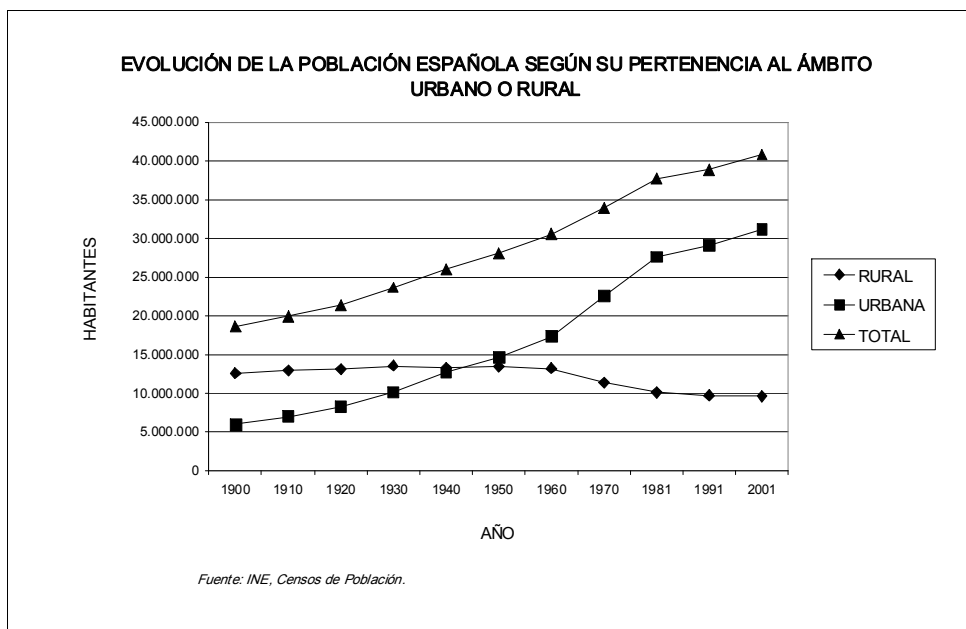
MATERIA: GEOGRAFÍA

3ª Parte

Comentario del gráfico adjunto: Realice un comentario del presente gráfico, atendiendo, al menos, a los siguientes aspectos:

- La dinámica de la estructura poblacional en España, desde la perspectiva de su pertenencia al ámbito urbano o rural.
- Explique su evolución, señalando algunas consecuencias emanadas de este hecho.

Puntuación máxima: 2,5 puntos.



UNIVERSIDADES PÚBLICAS DE LA COMUNIDAD DE MADRID

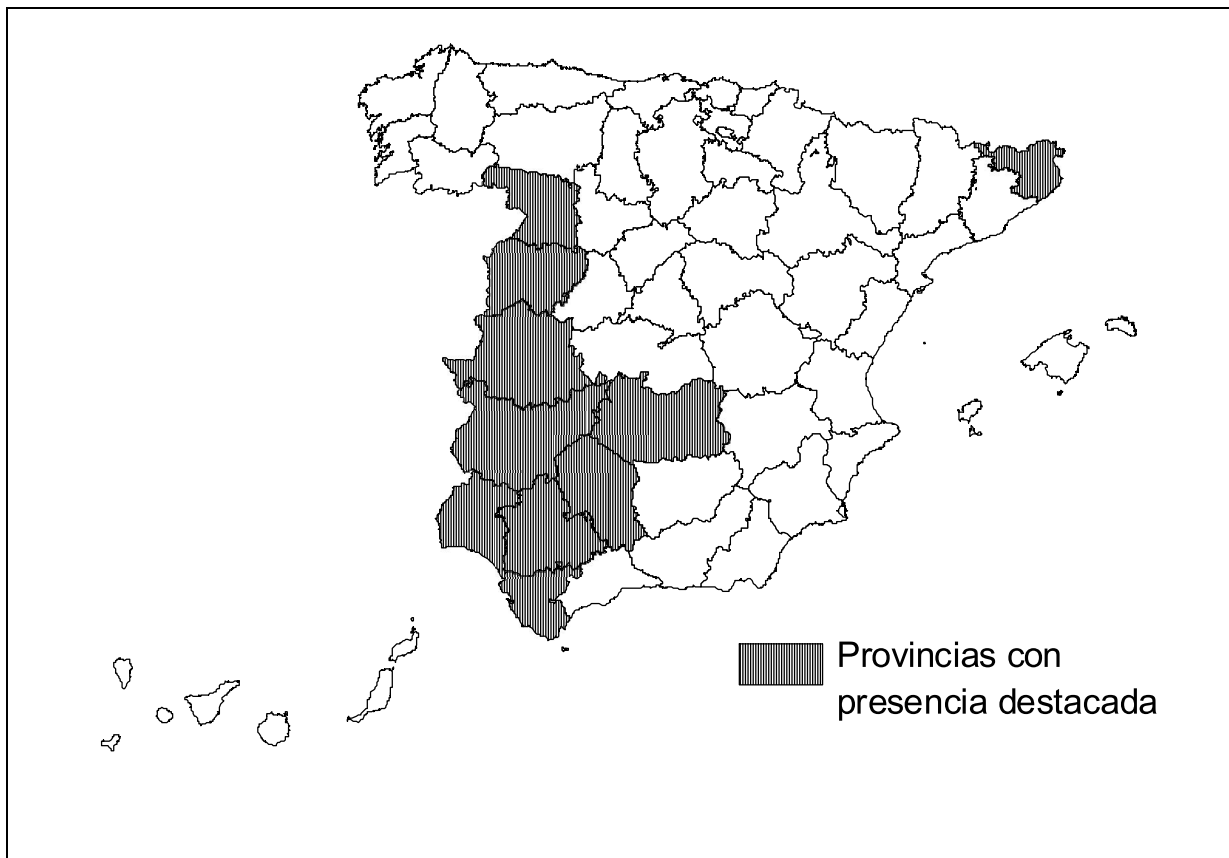
PRUEBA DE ACCESO A ESTUDIOS UNIVERSITARIOS (LOGSE)
Curso 2006-2007

MATERIA: GEOGRAFÍA

4ª Parte

A la vista del mapa adjunto, *“Distribución del alcornoque (Quercus suber), en España”*, indique el nombre de las provincias “tramadas”, pertenecientes a dicha categoría, cartografiadas en el mapa; señale las razones, que explican esta distribución, y comente algunas consecuencias emanadas de este hecho.

Puntuación máxima: 2 puntos.



CRITERIOS ESPECÍFICOS DE CORRECCIÓN

A) CRITERIO GENERAL:

La puntuación total será en ambas pruebas de **10 puntos**, correspondiendo a la primera parte **1'5 puntos**; a la segunda, **4 puntos**; a la tercera, **2'5 puntos**, y a la cuarta parte, **2 puntos**. La estructura y los criterios de corrección serán los siguientes, tanto para la **Opción A** como para la **Opción B**.

B) CRITERIOS CONCRETOS:

1ª. Primera parte: *1,5 puntos* (cada término o concepto: *0'25 puntos*).

Definición de una serie de *términos geográficos y conceptos*. Las respuestas deberán valorarse con un criterio amplio, ya que son numerosas las correctas posibilidades expresivas. En todo caso, se atenderá a la precisión geográfica en la caracterización del término o concepto, y, a la claridad conceptual.

2ª. Primera parte: *4 puntos*

Trata del “*desarrollo de un tema*”, valorando fundamentalmente la ordenación, la estructuración, la coherencia expositivo-argumentativa; la claridad, la precisión y la organización sintética de los conocimientos junto con la correcta localización, la comprensión y caracterización de los fenómenos geográficos que se suman al grado y profundidad de los conocimientos.

3ª. Tercera parte: *2,5 puntos*

Propone “*el comentario de un documento geográfico*”.

* **Opción A:** “*Comentario de una lámina*”. Se valorará positivamente la existencia de una metodología de comentario de fotografías. Barrio de la estación de Getafe (Madrid)

* **Opción B:** “*Comentario de un instrumento gráfico*”. Se valorará la capacidad de extraer información, analizar los datos y caracterizar la situación, en una relación causa-efecto.

4ª. Primera parte: *2 puntos*

Presenta unos *mapas* cuyo comentario tiene una puntuación máxima de **2 puntos**; en ellos debe atenderse a la correcta localización (valorada con **1 punto**) y caracterización de los elementos solicitados (valorada con **1 punto**).

Opción A: Portugal (Lisboa), Grecia (Atenas), Bélgica (Bruselas), Dinamarca (Copenhague), Suecia (Estocolmo), Finlandia (Helsinki), República Checa (Praga), Eslovaquia (Bratislava), Austria (Viena), Hungría (Budapest).

Opción B: Gerona, Zamora, Salamanca, Cáceres, Badajoz, Ciudad Real, Córdoba, Sevilla, Cádiz, Huelva.

En las cuatro partes de que consta la prueba, se considerarán elementos de ponderación; v.gr.: la calidad de la redacción, la corrección expositivo-argumentativa, la gramatical y la ortografía.

